



Club Alpino Italiano
Regione Piemonte



Commissione e Scuola
Interregionale
Alpinismo Giovanile



UMT32N WGS84

Punto T1

- Colora la Strada Provinciale 333: da dove arriva la strada? _____

Vuoi andare a Rocca Parvo:

- Segna sulla carta dove si trova
- Verso dove devi andare? N S O E
- A che quota trovi il bivio dove inizia il sentiero? _____ metri

Guarda intorno a te: quale tra i monti che vedi è Rocca Parvo?

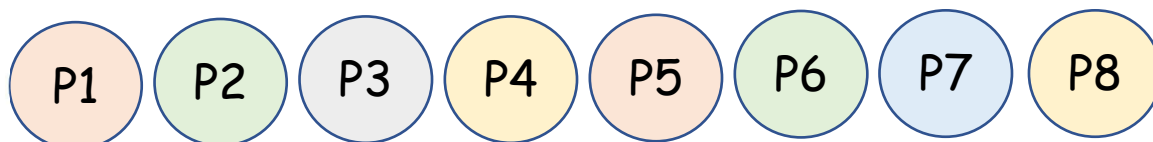



Inizio del sentiero

- Colora il percorso che hai fatto
- Segna sulla carta il punto nel quale ti trovi
- In che direzione sale il sentiero che va a Rocca Parvo? NE E SO O
- Che segnavia devi seguire?
- Come si chiama il rio che vedi alla tua sinistra? _____

Palina P1

- Colora il percorso che hai fatto
- Barra sulla scheda il numero della palina raggiunta
- Segna sulla carta il punto nel quale ti trovi
- In che direzione si trova San Magno? NE N SE E
- Mi sai dire quale è Punta Parvo fra i monti che vedi intorno?



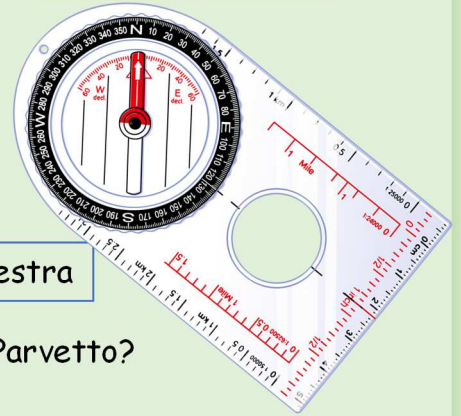
Palina P2

Per arrivare alla Palina P2 devi prendere una deviazione a...

sinistra

destra

- Colora il percorso che hai fatto
- Barra sulla scheda il numero della palina raggiunta
- Segna sulla carta il punto nel quale ti trovi
- Quando ritorno sul sentiero devo andare a ? sinistra destra
- Dei monti che vedi intorno a te, mi sai dire quale è Monte Parvetto?
- Proviamo a misurarne l'azimut? _____



Palina P3



- Colora il percorso che hai fatto
- Barra sulla scheda il numero della palina raggiunta
- Segna sulla carta il punto nel quale ti trovi
- Voglio salire sulla vetta di Rocca Parvo: devo andare a ? sinistra destra
- In che direzione sale il sentiero che va a Rocca Parvo? NE S SE O
- Voglio salire sulla vetta di Punta Parvo: devo andare a ? sinistra destra
- Dei monti che vedi intorno a te, sai riconoscere Rocca Parvo e il Monte Parvetto?

Palina P4

- Colora il percorso che hai fatto
- Barra sulla scheda il numero della palina raggiunta
- Segna sulla carta il punto nel quale ti trovi
- A che quota ti trovi? _____ metri
- Per scendere da Rocca Parvo, che direzione devi prendere?
NO S SO O
- Descrivi a parole cosa vedi intorno a te:



Palina P5

- Colora il percorso che hai fatto
- Barra sulla scheda il numero della palina raggiunta
- Segna sulla carta il punto nel quale ti trovi
- Sei a Colletto Parvo, a che quota ti trovi? _____
- Per andare al Col del Nais, che direzione devi prendere?



NE E SO S



Palina P6

- Colora il percorso che hai fatto
 - Barra sulla scheda il numero della palina raggiunta
 - Segna sulla carta il punto nel quale ti trovi
 - A che quota ti trovi? _____ metri
 - Come si chiama il colle dove ti trovi? _____
- Vuoi salire sulla vetta di Punta Parvo: devo andare a... sinistra destra

Palina P7

- Colora il percorso che hai fatto
- Barra sulla scheda il numero della palina raggiunta
- Segna sulla carta il punto nel quale ti trovi
- Poco più avanti troverai un bivio.
Per salire sulla vetta di Punta Parvo devi andare a...



sinistra destra

Palina P8

- Colora il percorso che hai fatto
- Barra sulla scheda il numero della palina raggiunta
- Segna sulla carta il punto nel quale ti trovi
- A che quota ti trovi? _____ metri
- Descrivi con un disegno il Monte Parvetto
- Proviamo a misurarne l'azimut? _____

